

## Ficha de Identificação da Finlândia


Aluno(a): HENRIQUE LUÍS CARVALHO SILVA

Nº10 Ano 7º/A Turma

**Nome da Escola** → Putaan Koulu  
Hallituskatu 7  
95400 Tornio  
**Região/Cidade** → Finland  
**Site** → <https://peda.net/tornio/peruskoulut/putaan-koulu-7-9/eff>

**Capital** → Helsínquia

**Bandeira** →



**Moeda** →

A moeda é o Euro, mas até janeiro de 2002 era o marco finlandês.



1 marco finlandês e 1€ finlandês

**População** → 5,439 milhões (2013) Banco Mundial


**Sistema Político** → A **Finlândia** é uma república parlamentar. O Chefe de Estado é o Presidente da República e atualmente é o Sr. Sauli Niinistö.

**Geografia** → A Finlândia situa-se no extremo Norte da Europa – entre a Escandinávia e a Rússia – e banhada pelo mar Báltico. Na parte mais setentrional da Finlândia, para além do Círculo Polar Ártico, o país absorve parte da Lapónia.








**Montanhas e altitudes:** Halti 1365m; Ridnitsohkka 1317m; Saana 1029m; Galdhøpiggen 2469m; Glittertind 2465m; Korvatunturi 486m; Ruka 263m; Kebnekaise 2106m; Sarektjåkkå 2089m; Ylläs 718m; Iso-Syöte 432m; Dalsnibba 1476m.

**Rios e comprimentos:** Kemijoki 552Km; Paatsjoki 145Km; Muonio 380Km; Aura 65Km; Kymijoki 204Km; Torne510Km; Vuoksi.

**Pontos extremos da Finlândia**, onde estão as localidades mais ao norte, sul, leste e oeste: Ponto mais setentrional: Nuorgam, Utsjoki, Lapónia (↙70° 05' N 27° 57' E), também considerado o ponto mais setentrional da União Europeia; Ponto mais meridional: Boksgär, na localidade de Kökar, Åland (↙59° 30' N 20° 20' E); Ponto mais meridional (Finlândia Continental): Tulliniemi, península de Hanko (↙59° 48' N 22° 54' E); Ponto mais ocidental: Märket, Eckero, Åland (↙60° 18' N 19° 07' E); Ponto mais ocidental (Finlândia Continental): Kolttapahta, Enontekiö, Lapónia (↙69° 03' N 20° 32' E); Ponto mais oriental: Virmajärvi, Ilomantsi (↙62° 54' N 31° 35' E); Ponto mais baixo - Mar Báltico (nível do mar) e Mina de Pyhäjärvi localidade a 1.444m

abaixo do solo; Ponto mais alto- Halti, Enontekiö (1.323,6m) ( 69° 18' N 21° 15' E).

**Mares:** O golfo da Finlândia é a secção do mar Báltico que separa a Finlândia da Estónia, e que se estende até à cidade russa de São Petersburgo. Helsínquia e Tallinn são também banhadas pelo golfo.

 Bottenviken Baía de Bótnia	 Norra Kvarken Kvarken do Norte	 Bottenhavet Mar de Bótnia
 Ålands hav Mar de Åland	 Skärgårdshavet Mar do Arquipélago	 Bottniska viken Golfo de Bótnia
 Finska viken	<b>Golfo da Finlândia</b>  Coordenadas: 59° 30' N 23° E  O mar Báltico, entre a península escandinava e a costa da Polónia, Estónia, Letónia, Lituânia, Rússia e Finlândia	

**Lagos:** A Finlândia é um país com milhares de lagos e ilhas, 187 888 lagos e 179 584 ilhas, mais concretamente. Um destes lagos, o Saimaa, é o quinto maior lago da Europa. A paisagem finlandesa é predominantemente plana, com algumas colinas e montes baixos. O ponto mais alto do país, o Haltitunturi, com 1 328 m, encontra-se no extremo norte da Lapónia. Além dos muitos lagos, a paisagem é dominada por grandes extensões de floresta boreal (cerca de 60% da área terrestre) e pouca terra arável. A maior parte das ilhas encontra-se a sudoeste, fazendo parte do arquipélago das ilhas Åland, ou então situa-se ao largo da costa sul, no Mar do Arquipélago, parte do Golfo da Finlândia. A Finlândia é um dos poucos países do mundo que está a crescer: devido ao levantamento isostático da Escandinávia, que ocorre desde a última idade glacial, a superfície do país cresce cerca de 7 km<sup>2</sup> por ano.

**Clima:** A localização geográfica explica o rigor do clima Continental húmido: Invernos rigorosos, com temperatura média de -15°C, e Verões temperados e curtos, com temperaturas médias no sul do país acima dos 20°C. De novembro a abril, a maior parte dos lagos e rios permanece gelada. A precipitação média (incluindo neve e chuva) variam de 460 mm recolhidos no norte e 710 mm no sul. A neve cobre o solo durante quatro ou cinco meses por ano no sul e por cerca de sete meses no norte.

### Maiores Cidades:

Posição	Cidade	Província	População urbana	População municipal
1	<b>Helsinque</b>	Finlândia Meridional	1 071 599	579 016
2	<b>Tampere</b>	Finlândia Ocidental	292 288	209 748
3	<b>Turku</b>	Finlândia Ocidental	246 312	175 422

4	<b>Oulu</b>	Província de Oulu	171 345	137 370
5	<b>Lahti</b>	Finlândia Meridional	112 187	100 444
6	<b>Jyväskylä</b>	Finlândia Ocidental	105 760	128 114
7	<b>Pori</b>	Finlândia Ocidental	93 220	76 562
8	<b>Kuopio</b>	Finlândia Oriental	79 750	91 845
9	<b>Vaasa</b>	Finlândia Ocidental	62 106	58 607
10	<b>Kotka</b>	Finlândia Meridional	53 206	54 781
11	<b>Lappeenranta</b>	Finlândia Meridional	53 011	70 210
12	<b>Joensuu</b>	Finlândia Oriental	52 493	72 167
13	<b>Kouvola</b>	Finlândia Meridional	50 667	88 396
14	<b>Hyvinkää</b>	Finlândia Meridional	47 032	45 120
15	<b>Rovaniemi</b>	Província da Lapónia	46 443	59 274
16	<b>Hämeenlinna</b>	Finlândia Meridional	46 112	66 257
17	<b>Seinäjoki</b>	Finlândia Ocidental	41 213	56 578
18	<b>Porvoo</b>	Finlândia Meridional	35 652	48 403
19	<b>Mikkeli</b>	Finlândia Oriental	35 573	48 654
20	<b>Rauma</b>	Finlândia Ocidental	34 722	39 691
Fonte: <a href="http://www.citypopulation.de/Finland-UA.html#Stadt_alpha">http://www.citypopulation.de/Finland-UA.html#Stadt_alpha</a> (2005)				

**Línguas** → Existem duas línguas oficiais na Finlândia: Finlandesa, falada por 92% da população como língua materna e Sueco, falado por 5,5% dos habitantes.

**Dia Nacional** → 6 de dezembro

**Floresta** → As florestas cobrem 76% da superfície, o que torna o país um dos maiores produtores e exportadores de madeira. Destacam-se pinheiros e abetos. As florestas mais densas estão entremeadas com lagos, charcos e rios sem conta, enquanto os maiores lagos estão pontuados com ilhas e promontórios cobertos por árvores. Um dos Parques Naturais da Finlândia é o Parque Nacional de Oulanka (em finlandês “Oulangan kansallispuisto”) que é um parque nacional localizado nas regiões de Oulu e Lapónia. É um dos mais belos parques nacionais da Finlândia e possui 270 m<sup>2</sup>.

**Árvore Nacional** → Árvore nacional da Finlândia: bétula  
**Flora e Fauna**



Foto: Jouko Lehmuskallio/NatureGate

Finlândia, no que se refere a natureza, destacam-se os lagos, mas também pelos seus numerosos e extensos bosques, florestas de coníferas, que são as florestas de pinheiros, abetos e bétula. Entre a fauna, a rena, alce e cisnes, raposa ártica, lince boreal... são alguns espécies de destaques deste belo país.

**História** → A história da Finlândia está marcada pelos seus poderosos vizinhos: a Suécia e a Rússia. A Suécia começou a exercer o seu domínio desde o século XII. A Rússia invadiu o território em 1809 e o país passou a ser parte do Império Russo. No entanto, quando se deu a Revolução de 1917, a Finlândia proclamou independência.

**Atividades económicas** → **Agricultura:** Ela é pouco representativa. Cultivam-se apenas 8% do solo. Por causa do clima rigoroso, o desenvolvimento da agricultura é limitado a produtos básicos de subsistência. O gado – bovino e suíno – permanece em estábulos por falta de pastos.

**Indústria:** A Finlândia é um país que conta com uma economia estreitamente ligada à indústria. Os densos bosques proporcionam grandes reservas de madeira para o fabrico de móveis e papel. Os seus recursos naturais, como as florestas, são uma importante fonte de renda neste país, onde a indústria da madeira é das mais importantes do mundo e assim como da mineração em algumas áreas do país. O país utiliza também as suas imensas reservas de água: cerca de um quarto da eletricidade da Finlândia é gerada em esquemas hidroelétricos. Nos rios e nos lagos abundam trutas e lúcius. A pesca marítima é outra importante indústria. Além disso, a economia da Finlândia, está intimamente ligada a outros fatores, a eletrónica, a pesquisa, as telecomunicações, o desenho, fazem parte da estrutura económica do país. O turismo de aventura, o turismo de desportos e assim como o turismo cultural ou o turismo de natureza também fazem parte da economia finlandesa.

**Comércio:** O comércio externo é importante, representando cerca de 1/3 do PIB. Com exceção de madeira e de vários minérios, a Finlândia depende de importações de matérias-primas, energia, e alguns componentes de bens manufacturados.

O país exporta madeira e produtos da indústria do papel. Importa matérias-primas semielaboradas e combustíveis. O intercâmbio de mercadorias com o exterior é realizado pelo mar, principalmente através do porto de Skoldvik. Assim, destaca-se:

- Principais setores económicos: indústria eletrónica, elétrica e automobilística.
- Principais produtos agropecuários produzidos: cevada, açúcar, trigo, beterraba, batata.
- Principais produtos industrializados produzidos: máquinas, equipamentos eletrónicos, metais, equipamentos científicos, navios.
- Principais produtos exportados: equipamentos elétricos, máquinas, equipamentos de transporte, celulose e produtos químicos.
- Principais produtos importados: alimentos, petróleo, produtos químicos, ferros, máquinas, aço.

**Serviços:** A Finlândia apresenta bom desempenho em muitas medidas de bem-estar, em relação a outros países do Índice para uma Vida Melhor. Finlândia pontua no topo em educação e qualificações, e acima da média em termos de qualidade do meio ambiente, bem-estar subjetivo, segurança pessoal, conexões sociais, aliciamento cívico, moradia e equilíbrio vida-trabalho.

A educação na Finlândia é obrigatória dos 7 aos 16 anos. O sistema educacional é o sistema Nórdico igualitário, sem taxa de ensino para os estudantes de tempo integral. Os alunos recebem alimentação gratuita na educação primária e secundária. Os estudos após a educação primária dividem-se em sistema vocacional e sistema

académico. A Finlândia é um país de desempenho superior em termos da qualidade de seu sistema educacional.

A Finlândia tem um sistema de saúde com uma forte componente pública de cariz social e fortemente descentralizado baseado numa rede de cuidados de saúde primários de proximidade dispendo de uma rede hospitalar pública de base regional e ainda de cinco hospitais de natureza universitária. 83% dos profissionais de saúde trabalham no setor público, 99% dos Centros de Saúde, de base Municipal são públicos.

A Finlândia também apresenta bom desempenho em termos de qualidade da água, pois 94% das pessoas declaram estar satisfeitas com a qualidade de sua água, mais do que a média da OCDE, de 81%.

No que diz respeito à esfera pública, há um forte senso comunitário e níveis moderados de participação cívica na Finlândia, onde 95% das pessoas acreditam conhecer alguém com quem poderiam contar em um momento de necessidade, acima da média da OCDE, de 88%. A participação eleitoral, uma medida da participação dos cidadãos no processo político, foi de 69% durante as últimas eleições; um pouco abaixo da média da OCDE, de 68%.

## Música →

A Orquestra Filarmónica de Helsínquia também conhecida pelo nome do compositor Jean Sibelius (1865-1957).



Algumas bandas Finlandesas:

### **HIM**



Foto: Joonas Brandt

### **Nightwish**



Foto: Ville Juurikkala

### **The Rasmus**



Foto: Hiroshi Manaka

### **Huoratron**



Foto: Vilhelm Sjöström

### **Apocalyptica**



Foto: Ralf Strathmann

### **Sunrise Avenue**



Foto: Anna Äärelä

### **Children of Bodom**



Foto: Antti Aimo-Koivisto/Lehtikuva

### **French Films**



Foto: Lari Laakkonen

## Pertti Kurikan Nimipäivät



Foto: J-P Passi/Kovasikajuttu © Mouka Filmi

## Sonata Arctica



Foto: Terhi Ylimäinen

**Desporto** → A Finlândia é um país de tradição automobilística. Na Formula 1 foram campeões do mundo *Mika Hakkinen*, em 1998 e 1999, e *Keke Rosberg* em 1982. Os pilotos finlandeses ganharam, também, mais de metade dos campeonatos mundiais de rali disputados a partir de 1977: *Markku Alen* (1978), *Ari Vatanen* (1981), *Hannu Mikkola* (1983), *Timo Salonen* (1985), *Juha Kankkunen* (86, 87, 91 e 93), *Tomi Makinen* (96, 97, 98 e 99) e *Marcus Gronholm* (2000).

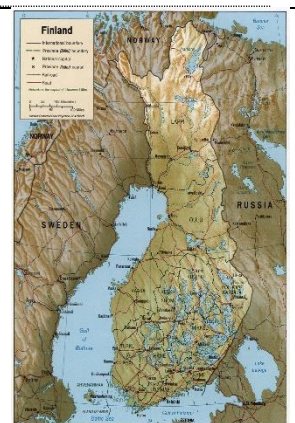
Jogadores de Futebol: *Jarno Mattila*; *Jukka Hakala*; *Saku Pesonen*; *Arttu Hinkula*; *Tuomo Turunen*; *Antonio Inutile*; *Veli Lampi*; *Joonas Vaisanen*; *Jarno Parikka*; *Roni Porokara*; *Joona Toivio*; *Jukka Lehtovaara*...

Clubes de Futebol: *FC Haka (Valkeakoski)*; *FC Honka (Espoo)*; *Inter Turku (Turku)*; *FC Lahti (Lahti)*; *FF Jaro (Jakobstad)*; *HJK (Helsinki)*; *IFK Mariehamn (Mariehamn)*; *JJK (Jyväskylä)*; *KuPS (Kuopio)*; *MyPa (Anjalankoski)*; *RoPS (Rovaniemi)*; *Tampere United (Tampere)*; *TPS (Turku)*; *VPS (Vaasa)*; *AC Oulu (Oulu)*; *Atlantis FC (Helsinki)*; *FC Hämeenlinna (Hämeenlinna)*; *FC Kiisto (Vaasa)*; *FC KooTeePee (Kotka)*; *FC Viikingit (Helsinki)*; *Jippo (Joensuu)*; *Klubi-04 (Helsinki)*; *KPV (Kokkola)*; *PK-35 (Helsinki)*; *Porin Palloilijat (Pori)*; *PS Kemi Kings (Kemi)*; *TP-47 (Tornio)*; *TPV (Tampere)*; *AC Allianssi*; *FC Jazz (PPT, Porin Pallotoverit)*; *FC Jokerit*; *FinnPa*; *GBK (Kokkola)*; *GrIFK (Kauniainen)*; *KäPa (Helsinki)*; *MP (Mikkeli)*; *PP-70 (Tampere)*; *Rakuunat (Lappeenranta)*; *Tervarit (Oulu)*; *VIFK (Vasa)*.

**Curiosidades** → Na Finlândia existe liberdade total de culto desde 1923. A Igreja Evangélico – Luterana é a principal instituição religiosa do país.

**Pessoas Famosas:** O arquiteto *Alvar Aalto* (1898-1976) inspirou-se na natureza para construir um novo estilo de “design”. Presidentes da Finlândia: *Kaarlo Juho Ståhlberg*; *Lauri Kristian Relander*; *Pehr Evind Svinhufvud*; *Kyösti Kallio*; *Risto Ryti*; *Gustaf Mannerheim*; *Juho Kusti Paasikivi*; *Urho Kekkonen*; *Mauno Koivisto*; *Martti Ahtisaari*; *Tarja Halonen* e *Sauli Niinistö*.

**E ainda** →



Localização da Finlândia (em vermelho). Na Europa (em branco).	Mapa da Finlândia com os países envolventes.	O mapa físico mostra que apenas norte da Finlândia é íngreme e com neve. O resto do país é plano e possui abundantes florestas e lagos.
--	--	---